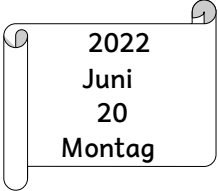


Kalender Jahreszeiten

1



Lies die Aufgaben sorgfältig durch. Schreibe die Antworten zu den jeweiligen Fragen/Aufgaben.

1	Wie viele Jahreszeiten hat ein Jahr? <input type="text"/>
2	Wie heißen die Jahreszeiten? <input type="text"/>
3	Wie lange dauert eine Jahreszeit? <input type="text"/>
4	Welches ist die kälteste Jahreszeit im Jahr? <input type="text"/>
5	Wie viele Monate hat ein Jahr? <input type="text"/>
6	Wie viele Wochen hat ein Jahr? <input type="text"/>
7	Wozu wird ein Kalender benötigt? <input type="text"/>
8	Der Kalender zeigt uns das Jahr an und teilt es in <input type="text"/> Monate <input type="text"/> Wochen <input type="text"/> Tage und <input type="text"/> Jahreszeiten ein.
9	Welche Kalender kennst du? Nenne 3 Stück. <input type="text"/>
10	Was sagt uns dieses Kalenderblatt? 
11	Nenne alle Monate und schreibe sie in der richtigen Reihenfolge auf! <input type="text"/> <input type="text"/>

Kalender Jahreszeiten

2



Lies die Aufgaben sorgfältig durch. Schreibe die Antworten zu den jeweiligen Fragen/Aufgaben.

12	Warum gibt es bei uns die vier Jahreszeiten? <input type="text"/> <input type="text"/> <input type="text"/> <input type="text"/> <input type="text"/> <input type="text"/> <input type="text"/> <input type="text"/>
13	Welche Jahreszeit kommt nach dem Herbst? <input type="text"/>
14	Der Äquator liegt direkt in der Mitte der Erde. Welche Jahreszeit gibt es am Äquator? <input type="text"/>
15	Wann beginnt der Frühling bei uns? <input type="text"/>
16	In welcher Jahreszeit kannst du einen Schneemann bauen? <input type="text"/>
17	In welchen Monaten ist Frühling: <input type="text"/> Sommer: <input type="text"/> Herbst: <input type="text"/> Winter: <input type="text"/>
18	Welcher Monat hat eine Besonderheit und warum? <input type="text"/>
19	In welcher Jahreszeit kann man ins Freibad gehen? <input type="text"/>
20	In welcher Jahreszeit ist Ostern? <input type="text"/>

Kalender Jahreszeiten

3



Lies die Aufgaben sorgfältig durch. Schreibe die Antworten zu den jeweiligen Fragen/Aufgaben.

21	In welcher Jahreszeit kann man Drachen steigen lassen? <input type="text"/>
22	In welchem Monat ist Fastnacht/Fasching? <input type="text"/>
23	Wie viele Tage hat ein Schaltjahr? <input type="text"/>
24	Wie heißt der 3. Monat im Jahr? <input type="text"/> 6. Monat im Jahr? <input type="text"/> 10. Monat im Jahr? <input type="text"/> 8. Monat im Jahr? <input type="text"/>
25	Welcher Monat hat die wenigsten Tage? <input type="text"/>
26	Wie oft gibt es ein Schaltjahr? <input type="text"/>
27	2020 war das letzte Schaltjahr. Wann ist das nächste Schaltjahr? <input type="text"/>
28	Was ist das Besondere an einem Schaltjahr? <input type="text"/>
29	Nenne zwei Wintermonate! <input type="text"/>
30	Mit welchem Monat fängt das Jahr an? <input type="text"/>
31	Wie viele Monate hat ein Halbjahr? <input type="text"/>
32	Was ist der Unterschied zwischen einem Schaltjahr und einem Normaljahr? <input type="text"/>

Kalender Jahreszeiten

4



Lies die Aufgaben sorgfältig durch. Schreibe die Antworten zu den jeweiligen Fragen/Aufgaben.

33	Ein bestimmter Monat beginnt mit einem Scherz. Welcher ist das? <input type="text"/>									
34	In welcher Jahreszeit blühen Tulpen? <input type="text"/>									
35	In welchem Monat wird das Erntedankfest gefeiert? <input type="text"/>									
36	In welchem Monat ist Muttertag? <input type="text"/>									
37	Nenne jeweils den Vormonat und den Nachmonat! <table data-bbox="220 875 1469 1066"><tr><td><input type="text"/></td><td>Februar</td><td><input type="text"/></td></tr><tr><td><input type="text"/></td><td>Juli</td><td><input type="text"/></td></tr><tr><td><input type="text"/></td><td>November</td><td><input type="text"/></td></tr></table>	<input type="text"/>	Februar	<input type="text"/>	<input type="text"/>	Juli	<input type="text"/>	<input type="text"/>	November	<input type="text"/>
<input type="text"/>	Februar	<input type="text"/>								
<input type="text"/>	Juli	<input type="text"/>								
<input type="text"/>	November	<input type="text"/>								
38	Wie viele Tage haben folgende Monate? Januar: <input type="text"/> Mai: <input type="text"/> Juli: <input type="text"/> Oktober: <input type="text"/> November: <input type="text"/>									
39	Welche Monate haben 31 Tage? Zähle sie auf! <input type="text"/>									
40	In welchem Monat ist Nikolaustag? <input type="text"/>									
41	Nenne vier Monate, die 30 Tage haben! <input type="text"/>									
42	Welche Monate gehören zum Winter? Kreuze an! <input type="checkbox"/> Februar <input type="checkbox"/> März <input type="checkbox"/> Juni <input type="checkbox"/> August <input type="checkbox"/> Dezember <input type="checkbox"/> Januar									
43	Sabine sagt: „Ich kann meinen Geburtstag nur alle vier Jahre feiern“. Kann das stimmen? Begründe! <input type="text"/>									

Kalender Jahreszeiten

5



Lies die Aufgaben sorgfältig durch. Schreibe die Antworten zu den jeweiligen Fragen/Aufgaben.





44	Die Erde umkreist die Sonne. Wie lange braucht sie dafür? <input type="text"/>
45	Nenne die Wochentage und schreibe sie in der richtigen Reihenfolge auf! <input type="text"/>
46	Wie viele Tage hat der Januar? <input type="text"/>
47	Wie viele Stunden hat ein Tag? <input type="text"/>
48	An welchen Wochentagen ist keine Schule? <input type="text"/>
49	An welchem Tag ist Allerheiligen? <input type="text"/>
50	An welchem Tag beginnt die Woche? <input type="text"/>
51	Heute ist Dienstag und übermorgen muss Jenny zum Arzt. Welcher Wochentag ist das? <input type="text"/>
52	An welchem Tag ist „Heilige Drei Könige“? <input type="text"/>
53	An welchem Tag wird die Geburt Jesus Christi gefeiert? <input type="text"/>
54	Welcher Monat hat in einem Schaltjahr einen Tag mehr? <input type="text"/>
55	Wie viele Blätter hat ein Monatskalender? <input type="text"/>
56	Am 21. Juni ist Sommeranfang und die Sommersonnenwende. Erkläre, was das bedeutet! <input type="text"/> <input type="text"/>

Kalender Jahreszeiten

6

Lies die Aufgaben sorgfältig durch. Schreibe die Antworten zu den jeweiligen Fragen/Aufgaben.



57	Zu welcher Tageszeit ist der Schatten am kürzesten? <input type="text"/>
58	Wie viele Stunden dauert es, bis die Erde sich einmal um sich selbst gedreht hat? <input type="text"/>
59	Dirks Mama konnte nicht zur Arbeit gehen, weil sie krank war. Sie war vom 26. Februar bis zum 3. März krank. Wie viele Tage waren das? <input type="text"/>
60	Welcher Feiertag ist am ersten Tag des Jahres? <input type="text"/>
61	Wie viele Tage hat der Februar? <input type="text"/>
62	Was feiern wir am letzten Tag des Jahres? <input type="text"/>
63	Heute ist Montag, vorgestern war <input type="text"/>
64	Wie kann man das Datum 21.06.2014 noch schreiben? <input type="text"/>
65	Schreibe zu den Bildern die passende Jahreszeit! <div style="display: flex; justify-content: space-around; align-items: center;"></div> <div style="display: flex; justify-content: space-around; margin-top: 10px;"><input type="text"/><input type="text"/><input type="text"/><input type="text"/></div>
66	Welcher Monat hat 28 Tage? <input type="text"/>

Lies die Aufgaben sorgfältig durch. Schreibe die Antworten zu den jeweiligen Fragen/Aufgaben.

67 Kreuze die richtigen Antworten an!

- Ein Schaltjahr hat 366 Tage.
- Karfreitag ist vor Ostersonntag.
- Im April ist Freibadwetter.
- Neujahr kommt vor Silvester.
- Wir haben Jahreszeiten, weil die Erdochse schief ist.
- Am Morgen geht die Sonne auf.
- Heute ist Sonntag, vorgestern war Mittwoch.
- Jede Jahreszeit dauert drei Monate.
- Nikolaustag ist am 6. November.
- Im Herbst kann man Tulpen pflücken.
- Wenn der Februar 29 Tage hat, dann ist dies ein Schaltjahr.
- Schaltjahre gibt es alle zwei Jahre.
- Ein Tag hat 24 Stunden.
- Ein Jahr hat 54 Wochen.