

Schularbeit / Klassenarbeit



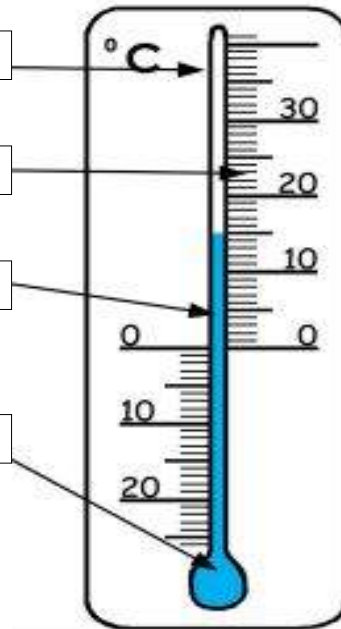
Name:

Datum:

1 Wie heißt der schwedische Erfinder des Thermometers?

/1

2 Beschrifte das abgebildete Thermometer.



/4

3 Wann erfand er das Thermometer?

/1

4 Wie bestimmte er die Punkte auf dem Thermometer?

/2

5 Welche Thermometer kennst du?

/4

6 Bei wie viel Grad gefriert Wasser?

/1

7 Warum gibt es auf einem Fieberthermometer keine 0° C?

/1

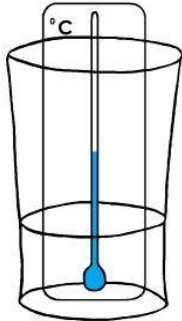
Schularbeit / Klassenarbeit



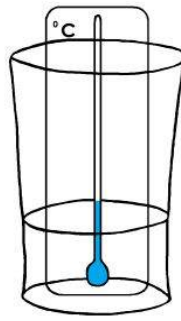
Name: _____

Datum: _____

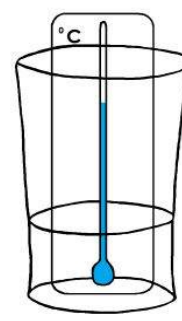
8 In welchem Glas ist die Wassertemperatur am niedrigsten und in welchem am höchsten? /2



a



b



c

9 Wie wird der Punkt bei 100° C auf dem Thermometer genannt? /1

10 Schreibe die gekürzte Form der Temperaturangabe!

Fünfundzwanzig Grad Wärme

Vier Grad unter Null

Zwölf Grad über Null

Zehn Grad Kälte

Die Rekordhitze liegt bei achtunddreißig Grad

/5

Von 22 Punkten hast du Punkte erreicht. Note: