

Ostsee

Lies die Aufgaben sorgfältig durch. Schreibe die Antworten zu den jeweiligen Fragen/Aufgaben.



1	Wann ist die Ostsee entstanden? <input type="text"/>
2	Wie ist die Ostsee entstanden? <input type="text"/> <input type="text"/> <input type="text"/> <input type="text"/> <input type="text"/> <input type="text"/> <input type="text"/> <input type="text"/> <input type="text"/>
3	Wo liegt die Ostsee? <input type="text"/> <input type="text"/>
4	Wie tief ist die Ostsee? <input type="text"/>
5	Wie groß ist die Ostsee? <input type="text"/>
6	Welchen Namen hat die Ostsee noch? <input type="text"/>
7	Mit welchem Meer ist die Ostsee verbunden? <input type="text"/>
8	Warum bezeichnet man die Ostsee als Binnenmeer? <input type="text"/> <input type="text"/>
9	Welche Länder liegen um die Ostsee? <input type="text"/> <input type="text"/>

Ostsee

Lies die Aufgaben sorgfältig durch. Schreibe die Antworten zu den jeweiligen Fragen/Aufgaben.

10	Welche großen Flüsse münden in die Ostsee? <input type="text"/> <input type="text"/>
11	Warum wird das Wasser der Ostsee als Brackwasser bezeichnet? <input type="text"/> <input type="text"/> <input type="text"/> <input type="text"/>
12	Warum hat die Ostsee im westlichen Teil einen höheren Salzanteil als im Mündungsgebiet? <input type="text"/> <input type="text"/> <input type="text"/> <input type="text"/>
13	Warum gefriert die Ostsee zu Eis? <input type="text"/>
14	Gibt es an der Ostsee Gezeiten? <input type="text"/>
15	Wie hoch ist der Unterschied zwischen Hoch- und Niedrigwasser an der Ostsee? <input type="text"/>
16	Wodurch werden die natürlichen Lebensräume für Tiere und Pflanzen in der Ostsee geschädigt? <input type="text"/> <input type="text"/>
17	Warum sind die Lebensbedingungen für Tiere und Pflanzen in der Ostsee nicht so gut wie in anderen Meeren? <input type="text"/> <input type="text"/> <input type="text"/>

Ostsee

Lies die Aufgaben sorgfältig durch. Schreibe die Antworten zu den jeweiligen Fragen/Aufgaben.



18	Welche Fische kommen in der Ostsee vor? <input type="text"/> <input type="text"/>
19	Welche großen Säugetiere leben in der Ostsee? <input type="text"/> <input type="text"/>
20	Welche Bedeutung hat die südliche Ostsee für Vögel? <input type="text"/> <input type="text"/>
21	Welche Meerespflanzen findet man in der Ostsee? <input type="text"/>
22	Warum vermuten Wissenschaftler, dass in einem Sechstel der Ostsee kein Leben mehr möglich ist? <input type="text"/> <input type="text"/>
23	Welche Küstenformen gibt es an der Ostseeküste? <input type="text"/>
24	Erkläre, was eine Fördenküste ist! <input type="text"/> <input type="text"/> <input type="text"/> <input type="text"/> <input type="text"/>
25	Erkläre, was eine Boddenküste ist! <input type="text"/> <input type="text"/> <input type="text"/> <input type="text"/> <input type="text"/>

Ostsee

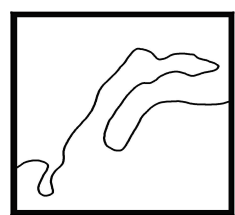
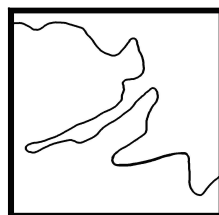
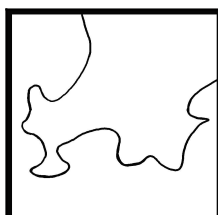
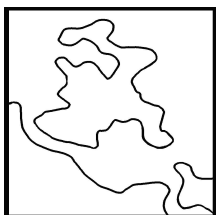
Lies die Aufgaben sorgfältig durch. Schreibe die Antworten zu den jeweiligen Fragen/Aufgaben.

26 Erkläre, was eine Ausgleichsküste ist!

27 Erkläre, was eine Haffküste ist!

28 Erkläre, was eine Steilküste ist!

29 Benenne die Küstenformen!



Ostsee

Lies die Aufgaben sorgfältig durch. Schreibe die Antworten zu den jeweiligen Fragen/Aufgaben.

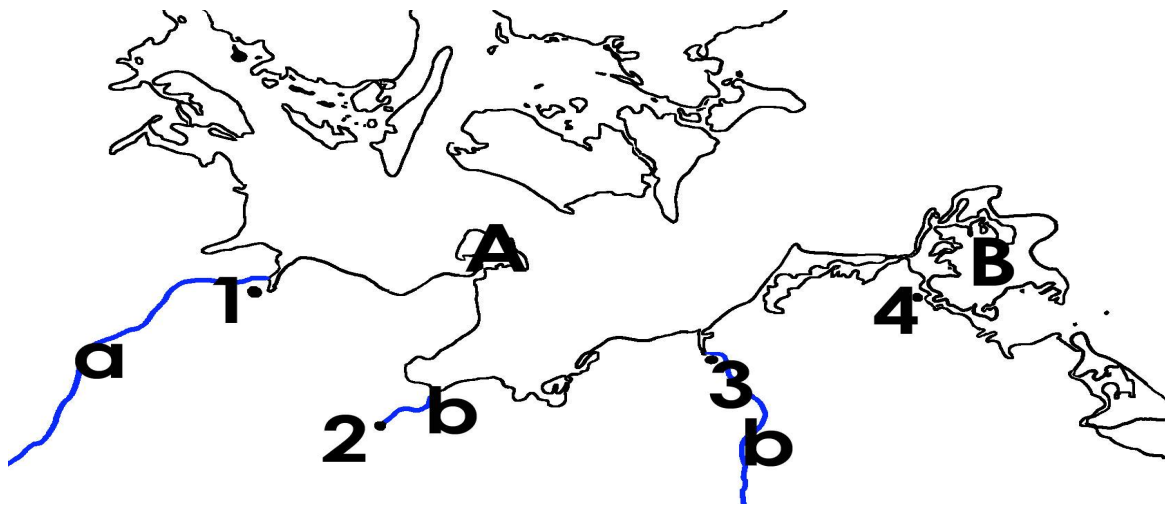


30	Wie wird ein schmaler Landstreifen genannt, der das flache Wasser vor der Küste vom offenen Meer abtrennt? <input type="text"/>
31	Wie heißt die größte Insel der Ostsee und zu welchem Land gehört sie? <input type="text"/>
32	Welche Inseln gehören zu Schweden? <input type="text"/>
33	Welche Inseln gehören zu Dänemark? <input type="text"/>
34	Wie heißt die zweitgrößte Insel der Ostsee und zu welchem Land gehört sie? <input type="text"/> <input type="text"/>
35	Wie heißen die größten deutschen Ostseeinseln? <input type="text"/>
36	Wodurch ist Rügen vom Festland getrennt? <input type="text"/>
37	Wie heißt die größte Stadt auf Rügen? <input type="text"/>
38	Wodurch ist die Insel Fehmarn mit dem Bundesland Schleswig-Holstein verbunden? <input type="text"/>
39	Auf welcher Insel kann man die berühmten Kreidefelsen sehen? <input type="text"/>
40	Warum gibt es an der Ostsee nur wenige natürliche Dünen? <input type="text"/> <input type="text"/> <input type="text"/> <input type="text"/> <input type="text"/> <input type="text"/>

Ostsee

Lies die Aufgaben sorgfältig durch. Schreibe die Antworten zu den jeweiligen Fragen/Aufgaben.

41 Beschrifte die Karte!



	Inseln		Städte		Flüsse / Kanäle
A.	<input type="text"/>	1.	<input type="text"/>	a.	<input type="text"/>
B.	<input type="text"/>	2.	<input type="text"/>	b.	<input type="text"/>
		3.	<input type="text"/>	c.	<input type="text"/>
		4.	<input type="text"/>		<input type="text"/>

42 Wie nennt man die Fläche, die je nach Wind und Wellen mal ganz trocken und mal wieder mit Wasser überspült ist?

43 Was entstand in der Zeit, als Deutschland ein Kaiserreich war, auf Usedom?

44 In welchem Nationalpark befinden sich die berühmten Kreidefelsen?

45 Welchen Schmuckstein kann man im Ostseegebiet finden?

46 Womit versucht man, die Küsten der Ostsee vor dem weiteren Vordringen des Meeres zu schützen?

