

# Europa



Lies die Aufgaben sorgfältig durch. Schreibe die Antworten zu den jeweiligen Fragen/Aufgaben.

1	Wie viele Länder hat Europa? <input type="text"/> <input type="text"/>
2	Wie bekam Europa seinen Namen? <input type="text"/> <input type="text"/>
3	Wie wird Europa geografisch gesehen? <input type="text"/>
4	Wie groß ist Europa? <input type="text"/>
5	Wie viele Bewohner hat Europa? <input type="text"/>
6	Wie viele Sprachen werden in Europa gesprochen? <input type="text"/>
7	Nenne die Abgrenzungen Europas! Norden: <input type="text"/> Osten: <input type="text"/> Süden: <input type="text"/> Westen: <input type="text"/>
8	Wie werden Europa und sein Nachbarkontinent zusammen genannt? <input type="text"/>
9	Was bildet die Grenze des Doppelkontinents? <input type="text"/> <input type="text"/>
10	Kreuze die richtige Antwort an! Europa ist mit einer Fläche von circa 10,2 Millionen km <sup>2</sup> der <input type="checkbox"/> kleinste <input type="checkbox"/> zweitkleinste <input type="checkbox"/> drittkleinste <input type="checkbox"/> viertkleinste Kontinent.
11	Welche zwei Länder gehören zum Teil zu Europa und zum anderen Teil zu Asien? <input type="text"/>

# Europa

Lies die Aufgaben sorgfältig durch. Schreibe die Antworten zu den jeweiligen Fragen/Aufgaben.



12	Wie wird Europa landschaftsmäßig unterteilt? <input type="text"/> <input type="text"/> <input type="text"/> <input type="text"/> <input type="text"/>
13	Welches Land ist das kleinste Europas? <input type="text"/>
14	Erkläre den Begriff „Zwergstaaten“! <input type="text"/> <input type="text"/> <input type="text"/> <input type="text"/>
15	Wie viele Zwergstaaten hat Europa? <input type="text"/>
16	Wie heißen die Zwergstaaten Europas? <input type="text"/> <input type="text"/>
17	Wie heißt Deutschlands kleinstes Nachbarland? <input type="text"/>
18	Welcher Kontinent grenzt direkt an Europa? <input type="text"/>
19	Welche ist die größte europäische Insel? <input type="text"/>
20	Wie nennt man die Länder, die nicht am Meer liegen? <input type="text"/>
21	Welche Länder Europas grenzen nicht an ein Meer? <input type="text"/> <input type="text"/> <input type="text"/>

# Europa

Lies die Aufgaben sorgfältig durch. Schreibe die Antworten zu den jeweiligen Fragen/Aufgaben.



22	Welches Land wird manchmal auch Holland genannt? <input type="text"/>
23	Welche Länder liegen rund um die Ostsee? <input type="text"/> <input type="text"/> <input type="text"/>
24	Welche Länder haben den gleichen Namen wie ihre Hauptstädte? <input type="text"/> <input type="text"/>
25	Welche Länder gehören zum „Balkan“? <input type="text"/> <input type="text"/> <input type="text"/>
26	Welche Länder gehören zu Südeuropa? <input type="text"/> <input type="text"/>
27	Welche Länder gehören zu Nordeuropa? <input type="text"/> <input type="text"/>
28	Welches europäische Land liegt am weitesten westlich? <input type="text"/>
29	Welche Länder gehören zu den „Donauländern“? <input type="text"/> <input type="text"/> <input type="text"/>
30	Nenne die Mittelmeerländer! <input type="text"/> <input type="text"/> <input type="text"/>

# Europa

Lies die Aufgaben sorgfältig durch. Schreibe die Antworten zu den jeweiligen Fragen/Aufgaben.



<b>31</b>	Wie wurden die Länder genannt, die unter europäischer Herrschaft standen?																									
<b>32</b>	Welche Länder gehören zu Mitteleuropa?																									
<b>33</b>	Ergänze jeweils das Land oder die Hauptstadt in der Tabelle!																									
	<table border="1" style="width: 100%; border-collapse: collapse; text-align: center;"> <thead> <tr> <th style="width: 25%;">Land</th> <th style="width: 25%;">Hauptstadt</th> <th style="width: 25%;">Land</th> <th style="width: 25%;">Hauptstadt</th> </tr> </thead> <tbody> <tr> <td style="border: 1px solid black; height: 20px;"></td> <td>Helsinki</td> <td>Niederlande</td> <td style="border: 1px solid black; height: 20px;"></td> </tr> <tr> <td style="border: 1px solid black; height: 20px;"></td> <td>Lissabon</td> <td>Weißrussland</td> <td style="border: 1px solid black; height: 20px;"></td> </tr> <tr> <td>Österreich</td> <td style="border: 1px solid black; height: 20px;"></td> <td style="border: 1px solid black; height: 20px;"></td> <td>Monaco</td> </tr> <tr> <td style="border: 1px solid black; height: 20px;"></td> <td>Reykjavik</td> <td>Lettland</td> <td style="border: 1px solid black; height: 20px;"></td> </tr> <tr> <td>Estland</td> <td style="border: 1px solid black; height: 20px;"></td> <td style="border: 1px solid black; height: 20px;"></td> <td>Valletta</td> </tr> </tbody> </table>	Land	Hauptstadt	Land	Hauptstadt		Helsinki	Niederlande			Lissabon	Weißrussland		Österreich			Monaco		Reykjavik	Lettland		Estland			Valletta	
Land	Hauptstadt	Land	Hauptstadt																							
	Helsinki	Niederlande																								
	Lissabon	Weißrussland																								
Österreich			Monaco																							
	Reykjavik	Lettland																								
Estland			Valletta																							
<b>34</b>	Erkläre den Begriff „Benelux-Staaten“!																									
<b>35</b>	Welches europäische Land hat die meisten Nachbarländer?																									
<b>36</b>	Österreich bildete mit einem anderen Land eine „Doppelmonarchie“. Welches Land war das?																									
<b>37</b>	Welches Land grenzt nicht an die Ostsee?																									
<b>38</b>	Welches Land sieht aus wie ein Stiefel?																									
<b>39</b>	Nenne die Nachbarländer Österreichs!																									

# Europa



Lies die Aufgaben sorgfältig durch. Schreibe die Antworten zu den jeweiligen Fragen/Aufgaben.

40	Nenne drei Tiefländer Europas! <input type="text"/> <input type="text"/>
41	Nenne die Hauptstadt von Großbritannien und aus welchen Ländern das „Vereinigtes Königreich“ besteht! <input type="text"/> <input type="text"/>
42	Großbritannien, Belgien, Dänemark, Norwegen und Spanien sind von der Staatsform her keine Republik. Welche Staatsform besitzen sie? <input type="text"/>
43	Nenne die drei Fürstentümer in Europa! <input type="text"/>
44	Welches Land grenzt nicht an das Mittelmeer? Kreuze die richtige Antwort an! <input type="checkbox"/> Bulgarien <input type="checkbox"/> Schweiz <input type="checkbox"/> Portugal <input type="checkbox"/> Ungarn
45	Welche Länder gehören zu den „Baltischen Ländern“? <input type="text"/>
46	Wo liegt Mazedonien? <input type="text"/> <input type="text"/>
47	In welcher europäischen Zone liegen Deutschland, die Schweiz und Österreich? <input type="text"/>
48	Welche zwei Länder liegen in Europa und Asien? <input type="text"/>
49	Welche Länder gehörten zum ehemaligen Staatenbund der Jugoslawen? <input type="text"/> <input type="text"/>
50	In welchem Erdzeitalter entstand Island? <input type="text"/>
51	Welches europäische Land ist der größte Inselstaat? <input type="text"/>

# Europa

Lies die Aufgaben sorgfältig durch. Schreibe die Antworten zu den jeweiligen Fragen/Aufgaben.



52	Nenne die Hauptstädte folgender Länder!			
	Albanien	<input type="text"/>	Moldawien	<input type="text"/>
	Andorra	<input type="text"/>	Monaco	<input type="text"/>
	Belgien	<input type="text"/>	Montenegro	<input type="text"/>
	Bosnien Herzegowina	<input type="text"/>	Niederlande	<input type="text"/>
	Bulgarien	<input type="text"/>	Norwegen	<input type="text"/>
	Dänemark	<input type="text"/>	Österreich	<input type="text"/>
	Deutschland	<input type="text"/>	Polen	<input type="text"/>
	Estland	<input type="text"/>	Portugal	<input type="text"/>
	Finnland	<input type="text"/>	Rumänien	<input type="text"/>
	Frankreich	<input type="text"/>	Russland	<input type="text"/>
	Griechenland	<input type="text"/>	Schweden	<input type="text"/>
	Großbritannien	<input type="text"/>	Schweiz	<input type="text"/>
	Irland	<input type="text"/>	Serbien	<input type="text"/>
	Island	<input type="text"/>	Slowakei	<input type="text"/>
	Italien	<input type="text"/>	Slowenien	<input type="text"/>
	Kosovo	<input type="text"/>	Spanien	<input type="text"/>
	Kroatien	<input type="text"/>	Tschechien	<input type="text"/>
	Lettland	<input type="text"/>	Türkei	<input type="text"/>
	Liechtenstein	<input type="text"/>	Ukraine	<input type="text"/>
Litauen	<input type="text"/>	Ungarn	<input type="text"/>	
Luxemburg	<input type="text"/>	Weißrussland	<input type="text"/>	
Malta	<input type="text"/>		<input type="text"/>	
53	Wie heißt die größte nordeuropäische Insel?			
	<input type="text"/>			

# Europa

Lies die Aufgaben sorgfältig durch. Schreibe die Antworten zu den jeweiligen Fragen/Aufgaben.



54	Nenne weitere Inseln Europas! <input type="text"/>
55	Welche Insel wird die grüne Insel genannt? <input type="text"/>
56	Nenne Halbinseln Europas! <input type="text"/> <input type="text"/>
57	Wie heißt die geteilte Insel im östlichen Mittelmeer? <input type="text"/>
58	Nenne zwei Inseln, die nördlich von Irland und Großbritannien liegen! <input type="text"/>
59	Nenne die größten europäischen Meere! <input type="text"/>
60	An welchen Meeren liegt Deutschland? <input type="text"/>
61	An welches Meer grenzen Italien und Spanien? <input type="text"/>
62	Erkläre die Begriffe „Binnenmeer“, „Randmeer“ und „Mittelmeer“! <input type="text"/> <input type="text"/> <input type="text"/> <input type="text"/> <input type="text"/> <input type="text"/>
63	Nenne die 10 größten und längsten Flüsse Europas! <input type="text"/> <input type="text"/> <input type="text"/>
64	Durch welche Länder fließt der Rhein? <input type="text"/> <input type="text"/>

# Europa

Lies die Aufgaben sorgfältig durch. Schreibe die Antworten zu den jeweiligen Fragen/Aufgaben.

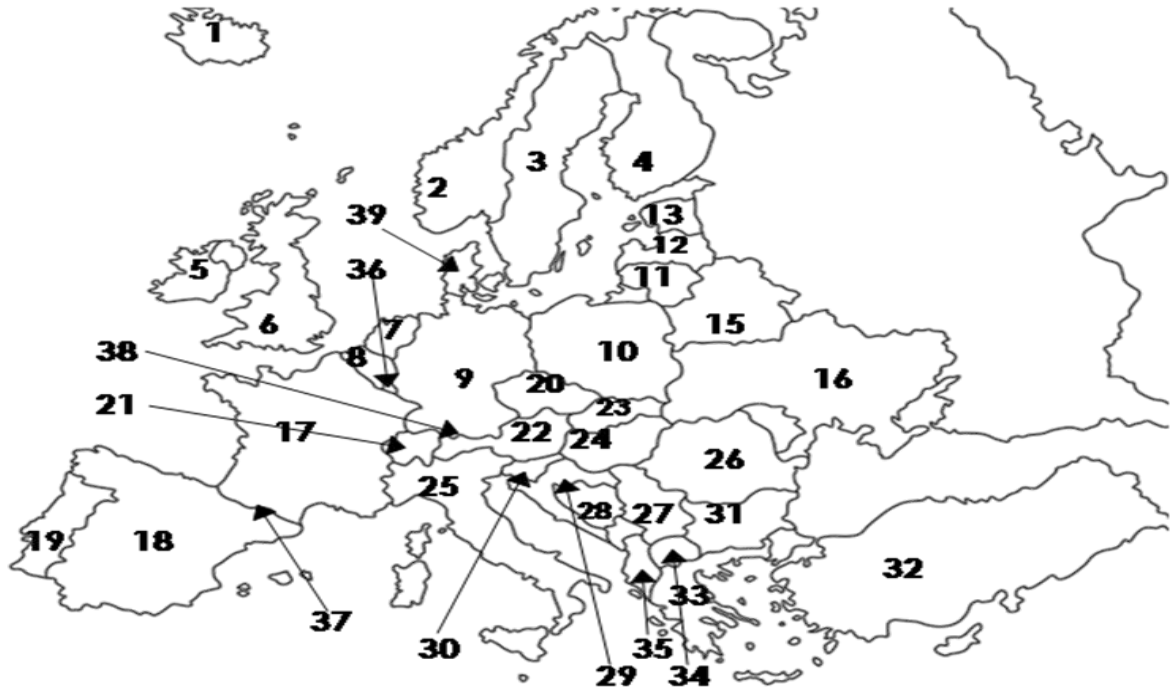


65	Durch welchen See fließt der Rhein?	<input type="text"/>
66	Wie heißt der große See in Ungarn?	<input type="text"/>
67	Wie heißt die Hauptstadt Frankreichs und an welchem Fluss liegt sie?	<input type="text"/>
68	Nenne fünf Flüsse in Europa!	<input type="text"/> <input type="text"/>
69	Durch welches Land fließt der längste Fluss Europas und wie heißt er?	<input type="text"/>
70	Wie heißt der zweitlängste Fluss Europas?	<input type="text"/>
71	Welcher Berg ist der höchste Europas und wo befindet er sich?	<input type="text"/>
72	Nenne die höchsten Gebirge Europas!	<input type="text"/> <input type="text"/>
73	Welches Gebirge liegt zwischen Spanien und Frankreich?	<input type="text"/>
74	Welches europäische Land hat die meisten Berge über 4 000 m Höhe?	<input type="text"/>
75	Nenne drei europäische Gebirge!	<input type="text"/> <input type="text"/>
76	Welches Gebirge ist das höchste im Inneren Europas und erstreckt sich über 1 200 km vom Ligurischen Meer bis zum Pannonischen Becken?	<input type="text"/>
77	Wie heißt das älteste Gebirge Europas?	<input type="text"/>

# Europa

Lies die Aufgaben sorgfältig durch. Schreibe die Antworten zu den jeweiligen Fragen/Aufgaben.

**78** Wie heißen die Länder Europas?



1	<input type="text"/>	14	<input type="text"/>	27	<input type="text"/>
2	<input type="text"/>	15	<input type="text"/>	28	<input type="text"/>
3	<input type="text"/>	16	<input type="text"/>	29	<input type="text"/>
4	<input type="text"/>	17	<input type="text"/>	30	<input type="text"/>
5	<input type="text"/>	18	<input type="text"/>	31	<input type="text"/>
6	<input type="text"/>	19	<input type="text"/>	32	<input type="text"/>
7	<input type="text"/>	20	<input type="text"/>	33	<input type="text"/>
8	<input type="text"/>	21	<input type="text"/>	34	<input type="text"/>
9	<input type="text"/>	22	<input type="text"/>	35	<input type="text"/>
10	<input type="text"/>	23	<input type="text"/>	36	<input type="text"/>
11	<input type="text"/>	24	<input type="text"/>	37	<input type="text"/>
12	<input type="text"/>	25	<input type="text"/>	38	<input type="text"/>
13	<input type="text"/>	26	<input type="text"/>	39	<input type="text"/>

# Europa

Lies die Aufgaben sorgfältig durch. Schreibe die Antworten zu den jeweiligen Fragen/Aufgaben.

79 Um welche Länder handelt es sich bei den Abbildungen?



80 Nenne die Vulkane Europas und wo sie sich befinden!

81 Warum gibt es kein Jugoslawien mehr?

82 Von welchem europäischen Land ging die Industrialisierung aus?

83 Welche Vegetationszonen hat Europa?

84 Nenne europäische Länder, durch die der 0°-Meridian verläuft!

85 Welchen Unterschied gibt es im Straßenverkehr zwischen uns und Großbritannien sowie Irland?

# Europa



Lies die Aufgaben sorgfältig durch. Schreibe die Antworten zu den jeweiligen Fragen/Aufgaben.

86	Mit welcher Währung kann man in den meisten europäischen Ländern bezahlen? <input type="text"/>
87	In welchen Ländern kann man mit dem Euro bezahlen? Nenne 8! <input type="text"/> <input type="text"/> <input type="text"/>
88	Was weißt du über den Euro? <input type="text"/> <input type="text"/> <input type="text"/>
89	Wie viele Mitglieder hat die Europäische Union? <input type="text"/>
90	Nenne die ersten europäischen Länder, die sich 1951 zur wirtschaftlichen Zusammenarbeit entschlossen hatten! <input type="text"/> <input type="text"/>
91	Beschreibe die Flagge der Europäischen Union! <input type="text"/> <input type="text"/> <input type="text"/> <input type="text"/>
92	Was symbolisieren die Sterne auf der Europa-Flagge? <input type="text"/> <input type="text"/> <input type="text"/> <input type="text"/> <input type="text"/>
93	Von wem stammte die „Europa-Hymne“? <input type="text"/> <input type="text"/>



# Europa



Lies die Aufgaben sorgfältig durch. Schreibe die Antworten zu den jeweiligen Fragen/Aufgaben.

96	Wann ist der „Europatag“ und welcher historische Tag ist es? <input type="text"/> <input type="text"/> <input type="text"/>
97	Wie lautet seit dem Jahr 2000 das Motto der Europäischen Union? <input type="text"/> <input type="text"/>
98	Nenne die fünf wichtigen Einrichtungen, die die Politik der Europäischen Union gestalten! <input type="text"/> <input type="text"/>
99	Welches Land ist die älteste Nation Europas? <input type="text"/>
100	Welche Stadt wird „Die Goldene Stadt“ genannt? <input type="text"/>
101	Wie heißt das Wahrzeichen von Paris? <input type="text"/>
102	In welcher Stadt steht das „Kolosseum“? <input type="text"/>
103	In welcher Stadt findet man den „schiefen Turm“? <input type="text"/>
104	Wie heißt das Wahrzeichen von Brüssel? <input type="text"/>
105	Wie heißt die bekannte antike Stadtfestung in Athen? <input type="text"/>
106	Wie nennt man die Graslandschaft in Ungarn? <input type="text"/>
107	Was ist das Wahrzeichen des Wiener Praters? <input type="text"/>
108	Wie heißt das schwedische Fest, das im Sommer gefeiert wird? <input type="text"/>

# Europa

Lies die Aufgaben sorgfältig durch. Schreibe die Antworten zu den jeweiligen Fragen/Aufgaben.

**109** An welchem Tag feiert Russland das Kinderfest und wer bringt dort die Geschenke?


**110** In welchem Land stehen viele Kreml?

**111** In welcher Stadt steht das „Brandenburger Tor“?


**112** Wo wurden die „Olympischen Spiele“ erfunden?

**113** Welches Fest wird im Frühjahr in allen christlichen Ländern gefeiert?


**114** Male die Flaggen richtig aus!




Deutschland



Türkei



Europa



Großbritannien

Zu welchem Land gehören die folgenden Flaggen?



**115** Nenne 10 Länderkennzeichen!

**116** Welche Schrift gibt es in Europa?





**117** Welchen Traum quälte Europa (Tochter des Königs der Phönizier Agenor)?

# Europa

Lies die Aufgaben sorgfältig durch. Schreibe die Antworten zu den jeweiligen Fragen/Aufgaben.

118 Warum ging Aphrodites Weissagung „Unsterblich sollst du künftig sein Europa, denn der Erdteil, der dich aufgenommen hat, soll für alle Zeiten deinen Namen tragen“?

119 Ordne die Begrüßungen den Länderflaggen zu!

Bonjour!	
Gruezi!	
Merhaba!	
Buen dia!	

120 Ergänze die fehlenden Angaben in der Grafik!

