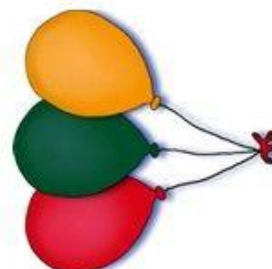





Drehungen

Welches der Bilder wurde um 90° nach links gedreht?



Drehungen

Welches der Bilder wurde um 90° nach rechts gedreht?

